

MAGYAR KERESKEDELMI ÉS IPARKAMARA

Országos Szakmai Tanulmányi Verseny

Területi előválogató

KOMPLEX ÍRÁSBELI FELADATSOR

Szakma:

5 0213 16 9 Grafikus

KKK rendelet szerint:

2019. évi LXXX. törvény 11. § (2) bekezdése szerint

Komplex írásbeli feladat:

Művészettörténet és szakelmélet

Elérhető pontszám: 100 pont

Az írásbeli verseny időtartama: 60 perc

2022.

| | |
|-------------|--|
| Javító neve | |
| Aláírása | |

| | |
|----------------|--|
| Elért pontszám | |
|----------------|--|

Fontos tudnivalók

Kedves Versenyző!

Az írásbeli feladatsorban a feladatok között néhány esetben kapcsolat lehet! Javasoljuk, hogy először olvassa végig a feladatokat, a megoldást az Ön számára egyszerűbb kérdések megválaszolásával kezdje.

A feladatok megoldásánál ügyeljen a következők betartására:

1. A feladatok megoldásához az íróeszközön és nem programozható számológépen kívül semmilyen más segédeszközt (pl. tankönyv, feladatgyűjtemény stb.) nem használhat!
2. A számítások elvégzésénél ügyeljen a következőkre:
 - a. Számológépet használhat, de minden mellékszámításnál ki kell jelölnie a következőket:
 - a számított adat vagy mutató megnevezését,
 - a számítás módját (a matematikai művelet a rendelkezésre álló adatokkal felírva),
 - a kapott eredményt mértékegységével együtt.
 - b. Amennyiben ezeket a kijelöléseket nem végzi el, a feladat még akkor sem fogadható el, ha a megoldás egyébként helyes!
 - c. Kerekítési pontosság: az adott feladatoknál található.
 - d. A számításokhoz szükséges kiegészítő adatokat (járulékokat, adókulcsokat) a feladatoknál megtalálja, ezekkel dolgozzon!
3. Ceruzával írt dolgozat nem fogadható el (kivétel ez alól a rajzok)!
4. A számításos feladatoknál végzett javítás esetén pontosan jelenjen meg, hogy melyik megoldást hagyta meg. Ellenkező esetben a feladat nem ér pontot!
5. Meg nem engedett segédeszköz használata a vizsgából való kizárást vonja maga után!
6. A teszt jellegű feladatoknál javítani tilos!

Ügyeljen arra, hogy áttekinthetően és szép külalakkal dolgozzon!

Sikeres megoldást és jó munkát kívánunk!

Művészettörténet

1. Feladat

..... pont / 10 pont

Helyezze el az alábbi művészeti emlékeket az egyiptomi művészet korszakaiban.

Írja a megfelelő betűjelet a megfelelő korszak megnevezése mellé!

- A) Nofertiti mellszobra
- B) Ámon templom Thébában
- C) Gizahi piramisok
- D) Tutanhamon halotti maszkja
- E) Az írnok szobra

Óbirodalom:

Közébirodalom:

Újbirodalom:

Helyes válaszonként 2 pont adható.

2. Feladat

..... pont / 8 pont

Azonosítsa, hogy az alábbi négy kép közül melyek a görög és melyek a római művészet emlékei!

Görög: _____

Római: _____




A



B



C




D

Helyes válaszonként 2 pont adható.

3. Feladat

..... pont / 12 pont

Írja az alábbi képek alá olvashatóan, hogy a gótikus vagy a román stílushoz tartoznak-e!



Helyes válaszként 2 pont adható.

4. Feladat

..... pont / 6 pont

Kakukktojás feladat hagyományos és fordított módon.

Az itt felsorolt művészek közül **egy nem** a reneszánsz alkotói közé tartozik, ki ő?

Húzza alá a nevet jól láthatóan!

- 1) Giorgio Vasari
- 2) Antonio Canova
- 3) Filippo Brunelleschi
- 4) Pieter Brueghel
- 5) Hieronymus Bosch
- 6) Tiziano Vecellio

Az itt felsorolt művészek közül pedig **csak egy** tartozik a reneszánsz alkotók közé, ki ő?

Húzza alá a nevet jól láthatóan!

- 1) Francisco Goya
- 2) Dominique Ingres
- 3) Camille Pissarro
- 4) Jan van Eyck
- 5) Vincent van Gogh
- 6) Willem de Kooning

Helyes válaszként 3 pont adható.

Versenyzői kód:

/ **1** /

2019. évi LXXX. törvény 11. § (2)
5 0213 16 9 Grafikus

5. Feladat

..... pont / 4 pont

Az alábbi kép egy részlet a reneszánsz egyik legnagyobb alkotásából.

Nevezze meg az alkotót és a helyet, ahol a mű található!



Az alkotó neve:.....

A hely, ahol a mű található:.....

A helyes válasz 2+2 = 4 pont.

6. Feladat**..... pont / 4 pont**

Jelölje meg aláhúzással, hogy az alábbi állítások közül melyek *igazak* a barokk stílusra!

- A barokk stílusra az egyszerű tiszta geometriai formák jellemzőek.
- A barokk stílus a manierizmuson át, a reneszánszból fejlődött ki.
- A klasszicizmus után következett a barokk korszak.
- Magyarországon nincs barokk épület.
- A barokkra jellemző a mozgalmasság és az erőteljesen díszített formák.
- Paál László a barokk jelentős mestere volt.
- A barokk stílusra jellemzőek a precízen kidolgozott részletek.
- A barokk festmények színesek, gyakran használják a hideg-meleg és a komplementer színek kontrasztot.
- A barokk festmények semleges, visszafogott színeket használnak.

Helyes válaszonként 1 pont adható.

7. Feladat**..... pont / 6 pont**

Az alábbi állítások vagy a romantikára, vagy a realizmusra igazak.

Írja be a pontok helyére, hogy a két stílus közül melyikre vonatkoznak!

- A egyik kiemelkedő alakja a festészetben Eugène Delacroix.
- A építészetének jellemző iránya a historizmus.
- A barbizoni iskola volt a első megjelenése a festészetben.
- Az akadémizmussal szemben a festészeti módszere az a plein air.
- A „Medúza tutaja” című festmény a egyik korai, kiemelkedő alkotása.
- Az orosz „peredvizsnyik” mozgalom a egyik jelentős állomása.

Helyes válaszonként 1 pont adható.

8. Feladat

..... pont / 3 pont

Soroljon fel három magyar származású alkotót, akik aktívan részt vettek a Bauhaus tevékenységében!

1.
2.
3.

Helyes válaszonként 1 pont adható.

9. Feladat

..... pont / 3 pont

Az alábbi elnevezések közül három a szecesszióval azonosítható.
Húzza alá jól láthatóan ezt a hármat!

1. Jugendstil
2. Drang nach Osten
3. De Stijl
4. Art Nouveau
5. Manierizmus
6. Modern Style

Helyes válaszonként 1 pont adható.

Szakelmélet

10. Feladat

..... pont / 14 pont

Az alábbi ábrába írja be a betű megfelelő részeit!



Helyes válaszonként 1 pont adható.

Versenyzői kód:

/ **1** /


2019. évi LXXX. törvény 11. § (2)
5 0213 16 9 Grafikus

11. Feladat

..... pont / 6 pont

Az alábbi nyomatok közül egy mély-, egy magas- és egy pedig síknyomtatással készült.

Írja a kép alá a megfelelő nyomási eljárást!



Helyes válaszonként 1 pont adható.

12. Feladat

..... pont / 8 pont

Sorolja fel egy könyv címnegyedének részeit, röviden írja le, mik kerülnek oda!

Helyes válaszonként 2 pont adható.

13. Feladat**..... pont / 8 pont**

Sorolja fel a legfontosabb különbségeket a klasszikus és a modern tipográfia alapelvei között, és írja be a táblázatba!

| Klasszikus tipográfia | Modern tipográfia |
|-----------------------|-------------------|
| | |
| | |
| | |
| | |
| | |

Helyes válaszonként 2 pont adható.

14. Feladat**..... pont / 8 pont**

Az alábbi állítások közül némelyik igaz, némelyik hamis.

Húzza alá a megfelelő választ!

- | | |
|---|------------|
| 1. Az additív színkeverés alapszínei: cián, magenta, sárga. | igaz-hamis |
| 2. Az additív színkeverés során a vörös és zöld színek keveredése ad sárga színt. | igaz-hamis |
| 3. A png képformátum nem váltható CMYK színmódra. | igaz-hamis |
| 4. Az offszet nyomtatás magasnyomású eljárás. | igaz-hamis |
| 5. A DTP a Desktop Publishing kifejezés rövidítéséből származik. | igaz-hamis |
| 6. Direkt színeknek azokat a színeket hívjuk, amiket szándékosan építünk a grafikánkba. | igaz-hamis |
| 7. A vörös és a narancs színek egymás kiegészítő színei. | igaz-hamis |
| 8. A CMYK kifejezésben a „K” a fekete színt jelenti. | igaz-hamis |

Helyes válaszonként 1 pont adható.