

Versenyző kódja:

	/ <b>16</b> /	
--	---------------	--

27/2012. (VIII. 27.) NGM rendelet  
34 542 05 - 2016

## MAGYAR KERESKEDELMI ÉS IPARKAMARA

### Szakma Kiváló Tanulója Verseny

Elődöntő

## ÍRÁSBELI FELADAT

Szakképesítés:

**34 542 05 Kárpitos**

**SZVK rendelet száma: 27/2012. (VIII. 27.) NGM rendelet**

Komplex írásbeli:

**Kárpitozási technológiák**

**Elérhető pontszám: 200 pont**

**Az írásbeli verseny időtartama: 180 perc**

**2016.**

Javító	
Aláírás	

Elért pontszám	
----------------	--

**Kedves Versenyző!**

- A feladatok összeállítása a Szakmai és Vizsgakövetelményekben megfogalmazott előírások alapján történik. A válaszok csak akkor fogadhatóak el, ha a válaszokat a feladatban előírt módon adja meg a versenyző. Csak a szabályosan javított feladatok fogadhatóak el. A tesztfeladatok válaszában javítani tilos, a javított válaszok nem értékelhetőek.
- A vizsgán csak a központilag kiadott feladatlapokon, valamint a vizsgát szervező kamara bélyegzőjével ellátott lapokon lehet dolgozni. A versenyzők az írásbeli megoldásához szükséges író- és rajzeszközöket, és szöveges adatok tárolására és megjelenítésére nem alkalmas zsebszámológépet használhatnak, melyekről a vizsgázók gondoskodnak. A vizsgán íróeszközként kék vagy fekete golyóstoll használható, a rajz ceruzával készíthető. Ceruzával írt versenydolgozat nem fogadható el, kivéve a szükséges vázlatokat, rajzokat! A vizsgázók egymás között nem cserélhetik az író és rajzeszközöket!
- Valamennyi számítási feladatnál a feladatok vagy feladatrészek csak akkor értékelhetőek, ha az adatok kigyűjtése, a mértékegység átszámítása megtörtént, ha az összefüggésekbe a versenyző számszerűen behelyettesít. Nem fogadható el az olyan feladat vagy feladatrész, ahol az összefüggés után csak a végeredményt tüntették fel, vagy hiányzik a mértékegység. A számításokhoz a versenyző csak számológépet használhat.

**Ügyeljen arra, hogy áttekinthetően és szép külalakkal dolgozzon!**

**Sikeres megoldást és jó munkát kívánunk!**

### 1. Feladat

**Az alábbi definíciók furnér- és lemezipari termékeket határoznak meg. A pontozott vonalra írja le, hogy a leírás mely anyagra vonatkozik!**

.....: A lapok és élek díszítő jellegű lezárására szolgáló, általában késselrel gyártott lemezipari termék.

.....: A színfurnér és a hordozólap között alátétként alkalmazzák. Megakadályozza a színfurnér zsugorodása vagy dagadása következtében fellépő repedezést. Általában hámozással állítják elő.

.....: Ragasztással előállított rétegelt fatermékek alapanyaga. Lehet takaró és belső furnér. Rendszerint hámozással készül.

**....pont / 6 pont**

### 2. Feladat

**Az alább felsorolt szálanyagok betűjelét írja a megfelelő helyre!**

- |           |                  |            |
|-----------|------------------|------------|
| a) kasmír | d) kapron        | g) juta    |
| b) jukka  | e) valódi selyem | h) moher   |
| c) maniki | f) dacron        | i) terilén |

Növényi eredetű szálanyag	
Állati eredetű szálanyag	
Szintetikus vegyi szál	

**....pont / 9 pont**

### 3. Feladat

**Írja le a pontozott vonalakra a bőrgyártás négy szakaszát!**

- .....
- .....
- .....
- .....

**....pont / 8 pont**

**Oldalpontszám: .....pont / 23 pont**

Versenyző kódja:  / **16** /

27/2012. (VIII. 27.) NGM rendelet  
Komplex írásbeli  
Kárpitos

#### 4. Feladat

**Sorolja fel a párnázat készítés fő műveleteit!**

1. ....
2. ....
3. ....
4. ....
5. ....

**....pont / 10 pont**

#### 5. Feladat

**Rajzolja le a német-, a francia- és a kettős francia rugólekötési módokat, valamint írja le, hogy melyiket milyen esetekben alkalmazzák!**

Német rugólekötés:	Francia rugólekötés:	Kettős francia rugólekötés:
Alkalmazás:	Alkalmazás:	Alkalmazás:

**....pont / 12 pont**

#### 6. Feladat

**Írja le, milyen bevonóanyagot használnak a téli és nyári oldalas matrac bevonására!**

Téli oldal: .....

Nyári oldal: .....

**....pont / 4 pont**

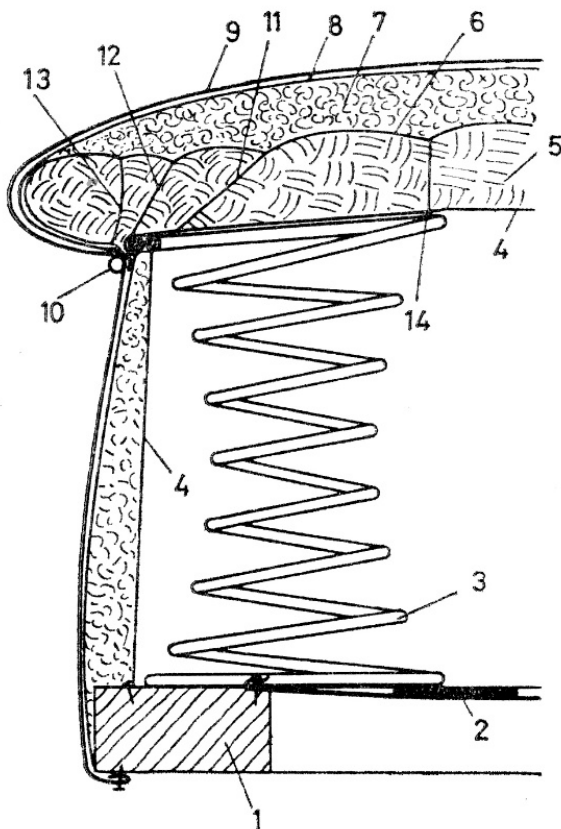
**Oldalpontszám: ....pont / 26 pont**

### 7. Feladat

Megrendelést kapott egy hagyományos fotelülés felújítására a képen látható élkialakítással.  
**Nevezze meg az élképzés fajtáját! Írja a számok melletti pontozott vonalra a fotel részeinek megnevezését!**

Megnevezés: .....

- 1. ....
- 2. ....
- 3. ....
- 4. ....
- 5. ....
- 6. ....
- 7. ....
- 8. ....
- 9. ....
- 10. ....
- 11. ....
- 12. ....
- 13. ....
- 14. ....



....pont / 30 pont

### 8. Feladat

**Csoportosítsa a habanyagok ragasztását!**

- .....
- .....
- .....

....pont / 6 pont

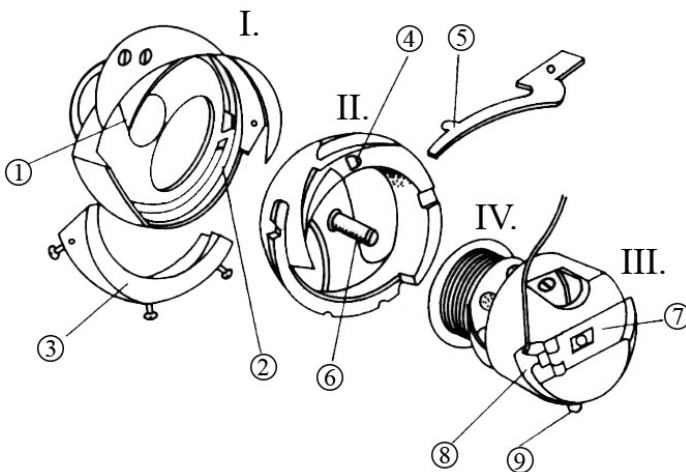
Oldalpontszám: .....pont / 36 pont

**9. Feladat**

**Nevezze meg a rajzon látható varrógép alkatrészét! A számok melletti pontozott vonalra írja az egyes részek nevét!**

Megnevezés: .....

- I. ....
- II. ....
- III. ....
- IV. ....
- 1. ....
- 2. ....
- 3. ....
- 4. ....
- 5. ....
- 6. ....
- 7. ....
- 8. ....
- 9. ....



....pont / 19 pont

**10. Feladat**

**Sorolja fel a szabás eszközeit!**

- .....
- .....
- .....
- .....
- .....

....pont / 10 pont

**Oldalpontszám:** ....pont / 29 pont

**11. Feladat**

Kárpitos vállalkozóként megkeresték Önt, hogy újítson fel 8 db matracot. A matracok mérete 70×100 cm, magassága 10 cm. A tapasztalati százalék 5%.

**Számolja ki a szükséges bevonóanyag mennyiségét!**

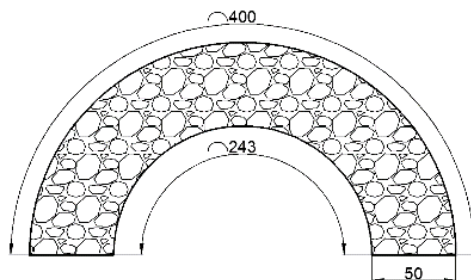
....pont / 16 pont

**12. Feladat**

Egy kárpitos üzem dolgozójaként az alábbi rajzon szereplő síkgörbe szabadpárnázatot kell elkészítenie sík hablémezből, szűkítéssel. A külső ív hossza 400 mm, a belső ív hossza 243 mm, a hablémez vastagsága 50 mm.

**Számítsa ki a szűkítés mértékét, ha a feszültségkiegyenlítés miatti kimetszés növelés 5 %!**

**Határozza meg a kimetszések számát, méretét és az egymáshoz viszonyított távolságukat! Készítsen vázlatrajtot is!**



Megoldás:

....pont / 14 pont


Oldalpontszám: .....pont / 30 pont

### 13. Feladat

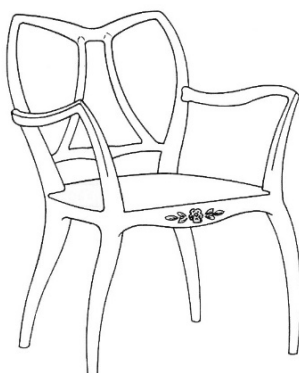
Az alábbi képeken látható ülőbútorok a következő stílusirányzatokhoz tartoznak:

- biedermeier
- klasszicista
- neo-barokk
- rokokó
- szecesszió

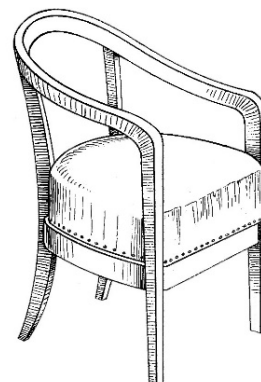
Nevezze meg a képek alatti pontozott vonalon az adott stílust!




.....




.....



.....



.....



.....

....pont / 10 pont

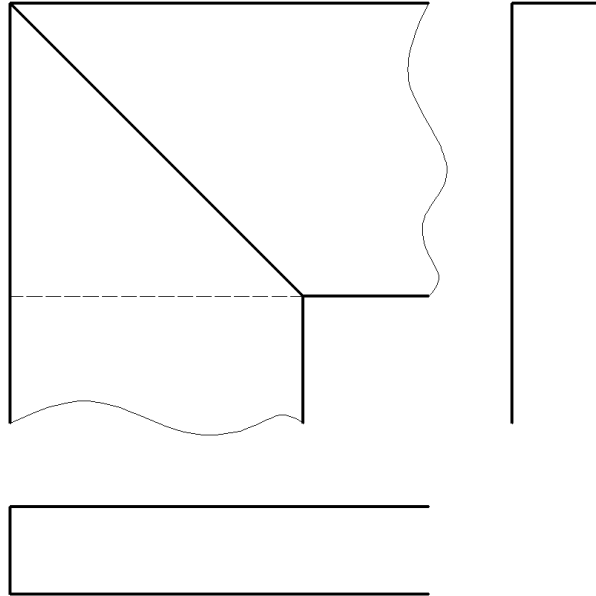
Oldalpontszám: .....pont / 10 pont



**14. Feladat**

Az alábbi rajzon egy lapolt sarokkötés előlnézete, valamint hiányosan, a felül- és oldalnézete látható.

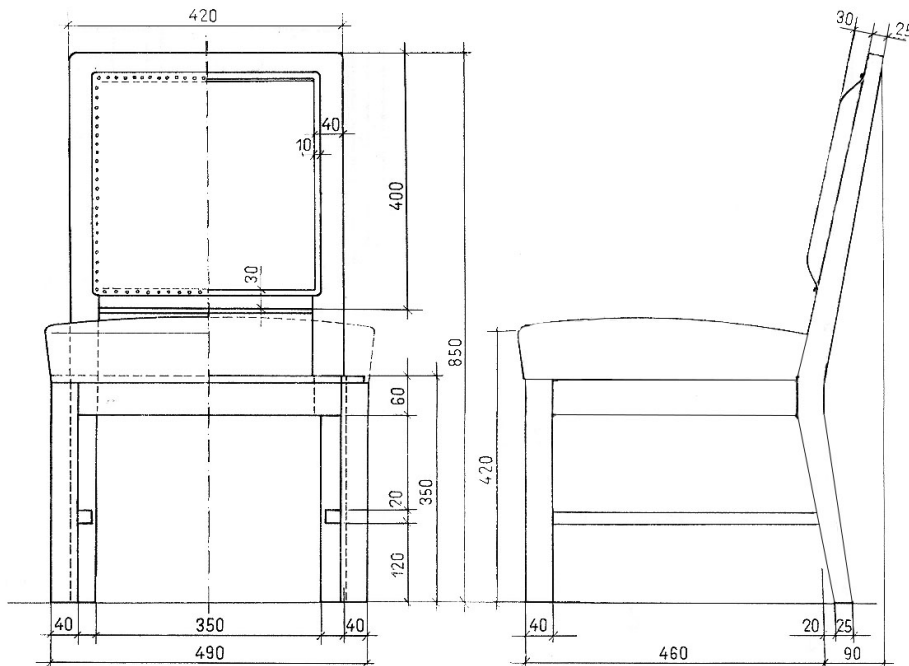
- a) Nevezze meg a sarokkötést! .....
- b) Az előlnézet alapján egészítse ki a hiányos nézeti rajzokat! Figyeljen a vonaltípusokra és az anyagjelölésre!



....pont / 10 pont

**15. Feladat**

Az alábbi képen egy hagyományos rugós magaskárpitozású, részben kárpitozott (árkolt) támlával készült karosszék elől és oldalnézete látható. A következő oldalon rajzolja meg a szék függőleges metszetét M1:5 méretarányban!



Oldalpontszám: .....pont / 10 pont

Versenyző kódja:  / **16** /

27/2012. (VIII. 27.) NGM rendelet  
Komplex írásbeli  
Kárpitos

Megoldás:

**....pont / 36 pont**

**Oldalpontszám: ....pont / 36 pont**

**Elérhető pontszám: 200 pont**

**Elért pontszám: ..... pont**