

Versenyző kódja:

	/11/	
--	------	--

27/2012. (VIII. 27.) NGM rendelet  
55 815 01 - 2016

## MAGYAR KERESKEDELMI ÉS IPARKAMARA

### Szakma Kiváló Tanulója Verseny

Elődöntő

## ÍRÁSBELI FELADAT MEGOLDÁSA

Szakképesítés:

**55 815 01 Fodrász**

**SZVK rendelet száma: 27/2012. (VIII. 27.) NGM rendelet**

Komplex írásbeli:

**Alaphajvágások; Frizurakészítés**

**Elérhető pontszám: 100 pont**

**Az írásbeli verseny időtartama: 90 perc**

**2016.**

Javító	
Aláírás	

Elért pontszám	
----------------	--

**Kedves Versenyző!**

Javasoljuk, hogy először olvassa végig a feladatokat, a megoldást az Ön számára egyszerűbb kérdések megválaszolásával kezdje.

A feladatok megoldásánál ügyeljen a következők betartására:

- A feladatok megoldásához az íróeszközön és a számológépen kívül semmilyen más segédeszközt (pl. tankönyv, stb.) nem használhat!
- Meg nem engedett segédeszköz használata a vizsgából való kizárást vonja maga után!
- Ceruzával írt dolgozat nem fogadható el!
- **Teszt jellegű feladatoknál nem javíthat!**  
Több megoldás beírása esetén egyet sem fogadunk el.
- Bizonyos feladatoknál példákat, jellemzőket kérünk Öntől. Ennél a feladat-típusnál különösen figyeljen, hogy hány darabot kér a feladat, ugyanis többletpontszám nem adható, még akkor sem, ha az elvárt darabszámtól többet sorolna fel!

**Ügyeljen arra, hogy áttekinthetően és szép külalakkal dolgozzon!**

**Sikeres megoldást és jó munkát kívánunk!**

***Minden feladatnál a megoldó kulcstól eltérő helyes válaszokat is el lehet fogadni, szaktanári elbírálás alapján.***

### 1. Feladat

a) A következő kérdések a hajszál felépítésével kapcsolatosak, mely a fodrász számára elengedhetetlen. Melyik rétegre jellemzőek a következő állítások? Írja a megfelelő betűt a kipontozott helyre!

- A) Kutikula
- B) Kortex
- C) Medulla
- D) 'A' és 'B' állításokra igaz
- E) Egyikre sem igaz

- E** Felépítésében zsírsejtek is szerepet kapnak.
- B** Többségében itt található a hajszál festékanyaga.
- C** Üreges szerkezetű, az ősz hajszálnál kiszélesedik.
- D** Keratin építi fel.
- A** Amorf keratin építi fel.
- D** Kitt anyag fogja össze.
- E** Vér és nyirokereket tartalmaz.

**....pont / 7 pont**

b) Rakja helyes sorrendbe a keratinizáció köztes termékeit!

   **2** eleidin         **3** keratohyalin         **1** tonofibrillum      Végtermék: keratin

**....pont / 3 pont**

### 2. Feladat

Fontos, hogy a diagnosztizálás során felismerje a különböző elváltozásokat. Írja a megfelelő betűjelet a számok mellé! Vigyázat, egy betűhöz nem tartozik szám, ez a kakukktojás!

- |  |                       |
|--|-----------------------|
| <b>D</b> __ 1. daganat                       | A. bárnymimlő         |
| <b>C</b> __ 2. szaruképzési zavar            | B. mikrosporia        |
| <b>A</b> __ 3. vírus okozta megbetegedés     | C. pikkelysömör       |
| <b>F</b> __ 4. baktérium okozta megbetegedés | D. milium             |
| <b>B</b> __ 5. gomba okozta megbetegedés     | E. tetvesség          |
|  | F. szórtüszőgyulladás |

Határozza meg, hogy a kakukktojás milyen fertőző betegségek közé sorolható: **állati élősködő** által okozott betegség.

**....pont / 6 pont**

**Oldalpontszám: ....pont / 16 pont**

### 3. Feladat

A fodrász szakma alapvető követelménye a személyi és munkahelyi higiénia. Csoportosítsa a következő fertőtlenítő szereket alkalmazási területük szerint. Írja a terület utáni vonalra a fertőtlenítőszer nevét, vigyázzon, a fertőtlenítőszeret csak egy helyre lehet beírni!

*70%-os etil-alkohol, Clarasept-Derm, natrium-hipoklorit, 10%-os hidrogén-peroxid*

eszközfertőtlenítő szer: **70%-os etilalkohol**

felületfertőtlenítő szer: **natrium-hipoklorit,**

bőrfertőtlenítő szer: **10%-os hidrogén-peroxid**

kézmosó fertőtlenítő szer: **Clarasept-Derm**

....pont / 4 pont

### 4. Feladat

A fodrász szakma alapvető követelménye, hogy ismerje szakmáját érintő alapfogalmakat. Párosítsa össze a fogalmakat és meghatározásaikat! Vigyázzon, van egy kakukktojás!

a, „A” választék	1, Különböző irányú hajáramok találkozása.
b, Vezetőtincs	2, A hajvágás során az ollót szembe tartjuk a tincssel, azaz párhuzamos az olló hossz tengelye a tincs hossz tengelyével.
c, Tompavágás	3, A hajvágás meghatározója, ehhez igazítjuk a többi tincset, ez határozza meg a frizura hosszát.
d, Mélypontvágás	4, A hajvágás során az olló vágóéle merőleges a tincs hossz tengelyére és párhuzamos a tincset tartó ujjakkal.
e, Forgó	5, Választék homlokközéptől tarkóközépig, a fej legmagasabb pontján keresztül.
f, Kalapvonal	6, Fültől fülig választék a fej legmagasabb pontján keresztül.
	7, A fej legnagyobb kerületi vonala.

a 5,

b 3,

c 4,

d 2,

e 1,

f 7

....pont / 6 pont

Oldalpontszám: .....pont / 10 pont

## 5. Feladat

A fodrász feladatai közé tartozik a vizes- és a száraz hajformázás. A következő feladat ezzel kapcsolatos!

Párosítsa az összetartozó fogalmakat! Írja a megfelelő betűjelet az állítás előtti vonalra!

- A) Vizes hajformázás
- B) Száraz hajformázás
- C) Mindkettő
- D) Egyik sem

- D** Fő hatóanyaga a PPD és PTD.
- B** A haj minősége befolyásolja a hajsütővas hőmérsékletének megválasztását.
- A** A csavaró átmérőjétől is függ a hullám lazasága vagy erőssége.
- C** Csak a hidrogén-hidakat bontjuk és zárjuk.
- D** A munkafolyamat során tartós formaváltoztatás is történik.
- B** A haj formázása történhet lapos csavarással és spirálcsvarrással.
- A** A munkafolyamat során csavarókat és csipeszeket használunk a haj formázásához.
- C** Hatása maximum a következő hajmosásig tart.

....pont / 8 pont

## 6. Feladat

Fontos, hogy a fodrász ismerje a férfi hajvágással és arcápolással kapcsolatos szakmai kifejezéseket. Ez a feladat ezzel kapcsolatos.

- a) Írja röviden a meghatározás mellé a hozzá tartozó fogalmat!

A felsőajak felett növe szőrzetből kialakított viselet: **Bajusz**

Tarkóban a hajnöveés legmélyebb pontja: **'0' pont**

Átmenet kialakítása olló és fésű segítségével: **Stuccolás.**

....pont / 3 pont

Oldalpontszám: .....pont / 11 pont

b) Sorolja fel a férfi oldalfazon formáit!

- **hegyes,**
- **tompa,**
- **egyenes.**

....pont / 3 pont

c) Ez a feladatrészben a férfi klasszikus hajvágásról és annak formázásáról olvashat állításokat. Írja be a hiányzó kifejezéseket értelemszerűen!

A vágás előtt a fejtetőn minimum **7-8 cm-nek** kell lennie a hajnak a követelmények szerint.

A nullpont feletti részen **kb. négy** ujjnyi magasságban kell átmenetet készíteni.

A nullpont kialakítása **mindig kötelező.**

A hajvágáshoz nem alkalmazható **hajvágógép** és **ritkító-/tapperolló.**

A fül körüli fazon **tisztára/át-** borotválása kötelező.

A nyakfazon kialakítása **csak ollóval történhet,** borotva alkalmazása nem megengedett a nyakszőr eltávolítására

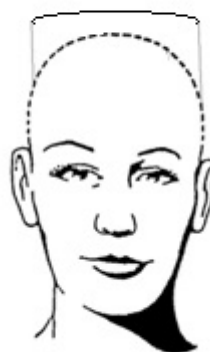
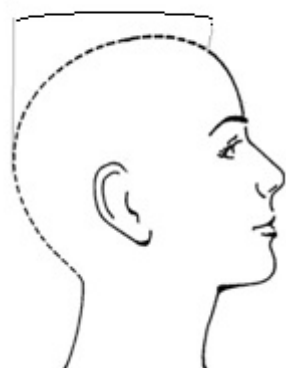
A fejtető haj kiemelési szöge az 'A' választék mentén **90°.**

A fejtető hajrész átborotválása a fésüléssel és szárítással **ellentétes** irányba történik.

A frizura elkészítéséhez szűkítővel ellátott hajszárítót kell használni, és **plasztikus/ kocka** forma kialakítása kötelező.

....pont / 10 pont

d) Rajzon szemléltesse a választék nélküli férfi klasszikus formát, elől- és oldalnézetből!



rajzonként 1-1- pont /....pont/2 pont

Oldalpontszám: .....pont / 15 pont

## 7. Feladat

A női alaphajvágások ismerete elengedhetetlen a fodrászok számára. Ez a feladat ezzel kapcsolatos.

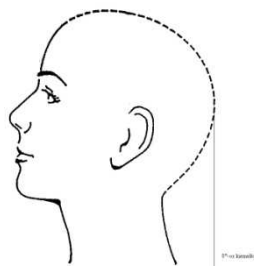
a) Milyen lehet a frizura külső vonala az I. kompakt/egyhossz hajvágás esetén?

- Vízszintes – horizontális
- Előre hosszabbodó
- Hátra hosszabbodó

*Minden helyes válasz 1 pont, összesen 3 pont*

**....pont/ 3 pont**

b) Határozza meg és jelölje milyen kiemelési szög lehetséges az I. kompakt/egyhossz formánál?

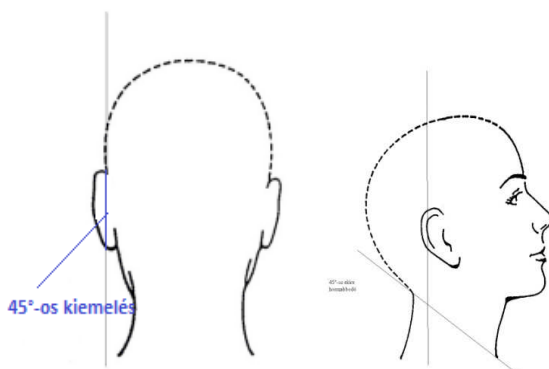


**0°**

*Helyes rajz és szög meghatározás 1-1 pont, összesen 2 pont.*

**....pont/ 2 pont**

c) Rajzolja be az ábrákba a II. lépcsőzetes forma a 45°előre hosszabbodó külső vonalú frizura, 45° kiemelését!



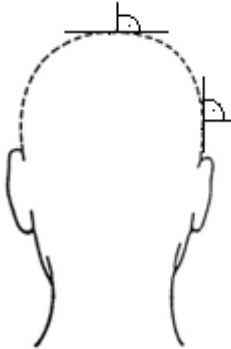
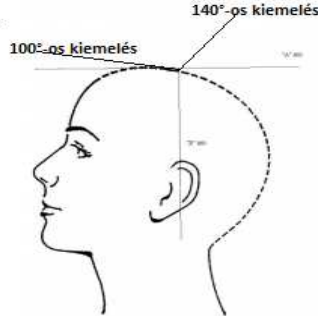


*Helyes rajz és szög meghatározás 1-1 pont, összesen 2 pont.*

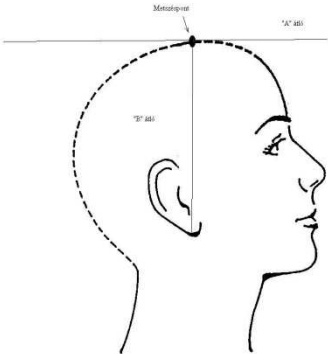
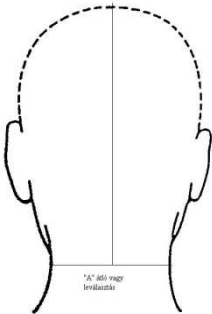
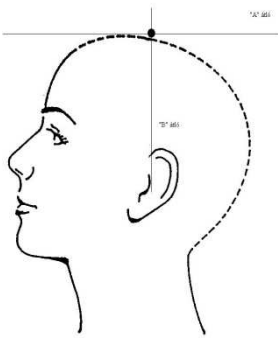
**....pont/ 2 pont**

**Oldalpontszám: .....pont / 7 pont**

d) Válaszoljon a feltett kérdésekre és töltsse ki a táblázatot értelemszerűen!

		
<p>Nevezze meg az alaphajvágás típusát!</p>	<p><b>III. uniform forma</b> (1 pont)</p>	<p><b>IV. lefelé hosszabbodó forma</b> (1 pont)</p>
<p>Ábrázolja a forma kiemelési szögét a rajzon a meghatározás szerint!</p>	 <p>90°-os kiemelési szög (Helyes rajz és szög jelölés 1-1 pont,)</p>	 <p>a „B” átló előtt 100° a kiemelési szög, a „B” átlótól a tarkó felé 140° a kiemelési szög (Helyes rajz és szög jelölés 1-1 pont,)</p>
<p>Milyen leválasztásokkal készíti a hajvágást?</p>	<p><b>Vízszintes, függőleges</b> (3 pont)</p>	<p><b>függőleges</b> vagy <b>diagonális</b> (2 pont)</p>



<p>Határozza meg az adott forma vezetőpasszé kialakításának lehetséges helyeit! Rajzon ábrázolja azokat!</p>	<div style="text-align: center;">  <p>( Helyes rajz 1 pont)</p> <p><b><u>A fejtetőn az „A” és „B” átló metszéspontja</u></b> (1 pont)</p> </div> <div style="text-align: center;">  <p>( Helyes rajz 1 pont)</p> <p><b><u>„A” átló tarkó hajnövés széle</u></b> (1 pont)</p> </div>	<div style="text-align: center;">  <p>( Helyes rajz 1 pont)</p> <p><b><u>A fej legmagasabb pontján az „A” és „B” átló metszéspontja</u></b>(1 pont)</p> </div>
<p>Hol a leghosszabb a haj a hajvágás elkészítését követően?</p>	<p><b><u>mindenhol ugyanolyan hosszú</u></b> (1 pont)</p>	<p><b><u>a hajnövés szélénél/nyakszirtnél</u></b>(1 pont)</p>
<p>Milyen leválasztásokkal ellenőrzi a hajvágást?</p>	<p><b><u>vágással ellentétes irányú</u></b> (1 pont)</p>	<p><b><u>ellentétes irányú/ vízszintes</u></b> (1 pont)</p>
<p>A hajvágás során képződik-e átmenete?</p>	<p><b><u>igen</u></b> (1 pont)</p>	<p><b><u>igen</u></b> (1 pont)</p>

Helyes rajz és szög meghatározás 1-1 pont, válaszonként 1-1- pont adható.

....pont / 23 pont

Oldalpontszám (táblázat): .....pont / 23 pont

**8. Feladat**

Hajvágás során a frizura kialakításával bizonyos „szépséghibákat” palástolni, illetve korrigálni és kiegyenlíteni is tudunk. Döntse el az állításokról, hogy igazak, vagy hamisak. Jelölje X-el megállapításait a táblázat megfelelő oszlopában! Értelemszerűen csak az egyik oszlopba írhat! A hamis mondatokat kijavítva írja le!

Állítások	Igaz	Hamis
Szögletes arcú vendégnél a geometrikus formák ajánlottak.		X
Magas homlokú vendégnél ajánljunk frufruval készülő frizurát.	X	
Kerek arcú vendégnek javasoljunk göndör haját és tömött frizurát.		X

Javítás:

- Szögletes arcú vendégnél a geometrikus formák **laza/hullámos rizura** ajánlottak.
- Kerek arcú vendégnek javasoljunk ~~göndör haját és tömött frizurát~~ **arcba fésült, frufru nélküli frizurát.**

....pont / 5 pont

Oldalpontszám: .....pont / 5 pont

**9. Feladat**

Fontos, hogy a fodrászok eligazodjanak a különböző korok és stílusok között, hiszen mindennapi munkájában visszaköszönnek ezek az ismeretek.

a) Milyen stílusban épültek a következő épületek?

Magyar Nemzeti Múzeum (Budapest) – **Klasszicista**

Egri Minorita templom - **Barokk**

Jáki templom - **Román**

Budapesti Mátyás templom – **Gótikus/ Neogótikus**

Firenzei Dóm- **Reneszánsz**

....pont / 5 pont

b) Fontos hogy a szakember ismerje, a különböző korok fontosabb hajviseleteit és azokhoz kapcsolódó kiegészítőket. Írja le a következők meghatározásait röviden!

Két részből álló gótikus főköttő: **Gebende**

Fiatal lányok félhold alakú fejdísz, gyakran gyöngyökkel díszítették: **Párta**

Legismertebb görög női kontyos hajviselet, a haját nyakból kiemelve, 3-4 szalagsorral leszorították, melyből az egyik a homlokot takarta le: **Lampadiosz konty**

Barokk női hajviselet, a sűrűn hullámosított leomló haját kétoldalt laposra nyomták: **Kutyafülhajviselet**

Homlokhaj megemlése, vázra fésüléssel: **Tutulusz**

Kúp-, vagy csonka kúp alakú gótikus fejdísz fátyollal: **Hennin**

Fehér vászon főköttő: **Hulle**

Barokk férfi hajviselet, mely az államhatalmat jelképezte, vállig ért és kazalszerűen állt a fejen, egyszerű polgárok viselték: **Kis alonge paróka**

....pont / 8 pont

Oldalpontszám: .....pont / 13 pont

**Elérhető pontszáma: 100 pont**

**Elért pontszáma:            pont**