

Versenyző kódja:

| | | |
|--|---------------|--|
| | / 11 / | |
|--|---------------|--|

27/2012. (VIII. 27.) NGM rendelet
55 815 01 - 2016

MAGYAR KERESKEDELMI ÉS IPARKAMARA

Szakma Kiváló Tanulója Verseny

Elődöntő

ÍRÁSBELI FELADATLAP

Szakképesítés:

55 815 01 Fodrász

SZVK rendelet száma: 27/2012. (VIII. 27.) NGM rendelet

Komplex írásbeli:

Alaphajvágások; Frizurakészítés

Elérhető pontszám: 100 pont

Az írásbeli verseny időtartama: 90 perc

2016.

| | |
|---------|--|
| Javító | |
| Aláírás | |

| | |
|----------------|--|
| Elért pontszám | |
|----------------|--|

Kedves Versenyző!

Javasoljuk, hogy először olvassa végig a feladatokat, a megoldást az Ön számára egyszerűbb kérdések megválaszolásával kezdje.

A feladatok megoldásánál ügyeljen a következők betartására:

- A feladatok megoldásához az íróeszközön –kék golyóstoll- kívül semmilyen más segédeszközt (pl. tankönyv, stb.) nem használhat!
- Meg nem engedett segédeszköz használata a vizsgából való kizárást vonja maga után!
- Ceruzával írt dolgozat nem fogadható el!
- **Teszt jellegű feladatoknál nem javíthat!**
Több megoldás beírása esetén egyet sem fogadunk el.
- Bizonyos feladatoknál példákat, jellemzőket kérünk Öntől. Ennél a feladat-típusnál különösen figyeljen, hogy hány darabot kér a feladat, ugyanis többletpontszám nem adható, még akkor sem, ha az elvárt darabszámtól többet sorolna fel!

Ügyeljen arra, hogy áttekinthetően és szép külalakkal dolgozzon!

Sikeres megoldást és jó munkát kívánunk!

Minden feladatnál a megoldó kulcstól eltérő helyes válaszokat is el lehet fogadni, szaktanári elbírálás alapján.

1. Feladat

a) A következő kérdések a hajszál felépítésével kapcsolatosak, mely a fodrász számára elengedhetetlen. Melyik rétegre jellemzőek a következő állítások? Írja a megfelelő betűt a kipontozott helyre!

- A) Kutikula
- B) Kortex
- C) Medulla
- D) 'A' és 'B' állításokra igaz
- E) Egyikre sem igaz

- ___ Felépítésében zsírsejtek is szerepet kapnak.
- ___ Többségében itt található a hajszál festékanyaga.
- ___ Üreges szerkezetű, az ősz hajszálnál kiszélesedik.
- ___ Keratin építi fel.
- ___ Amorf keratin építi fel.
- ___ Kitt anyag fogja össze.
- ___ Vér és nyirokereket tartalmaz.

....pont / 7 pont

b) Rakja helyes sorrendbe a keratinizáció köztes termékeit!

___eleidin ___keratohyalin ___tonofibrillum Végtermék: keratin

....pont / 3 pont

2. Feladat

Fontos, hogy a diagnosztizálás során felismerje a különböző elváltozásokat. Írja a megfelelő betűjelet a számok mellé! Vigyázat, egy betűhöz nem tartozik szám, ez a kakukktojás!

- | | |
|--------------------------------------|-----------------------|
| ___ 1. daganat | A. bárnymimlő |
| ___ 2. szaruképzési zavar | B. mikrospória |
| ___ 3. vírus okozta megbetegedés | C. pikkelysömör |
| ___ 4. baktérium okozta megbetegedés | D. milium |
| ___ 5. gomba okozta megbetegedés | E. tetvesség |
| | F. szőrtüszőgyulladás |

Határozza meg, hogy a kakukktojás milyen fertőző betegségek közé sorolható:

....pont / 6 pont

Oldalpontszám:pont / 16 pont

3. Feladat

A fodrász szakma alapvető követelménye a személyi és munkahelyi higiénia. Csoportosítsa a következő fertőtlenítő szereket alkalmazási területük szerint. Írja a terület utáni vonalra a fertőtlenítőszer nevét, vigyázzon, a fertőtlenítőszereket csak egy helyre lehet beírni!

70%-os etil-alkohol, Clarasept-Derm, natrium-hipoklorit, 10%-os hidrogén-peroxid

eszközfertőtlenítő szer: _____

felületfertőtlenítő szer: _____

bőrfertőtlenítő szer: _____

kézmosó fertőtlenítő szer: _____

....pont / 4 pont

4. Feladat

A fodrász szakma alapvető követelménye, hogy ismerje szakmáját érintő alapfogalmakat. Párosítsa össze a fogalmakat és meghatározásaikat! Vigyázzon, van egy kakukktojás!

| | |
|--------------------------|---|
| a , „A” választék | 1 , Különböző irányú hajáramok találkozása. |
| b , Vezetőtincs | 2 , A hajvágás során az ollót szembe tartjuk a tincssel, azaz párhuzamos az olló hossz tengelye a tincs hossz tengelyével. |
| c , Tompavágás | 3 , A hajvágás meghatározója, ehhez igazítjuk a többi tincset, ez határozza meg a frizura hosszát. |
| d , Mélypontvágás | 4 , A hajvágás során az olló vágóéle merőleges a tincs hossz tengelyére és párhuzamos a tincset tartó ujjakkal. |
| e , Forgó | 5 , Választék homlokközéptől tarkóközépig, a fej legmagasabb pontján keresztül. |
| f , Kalapvonal | 6 , Fültől fülig választék a fej legmagasabb pontján keresztül. |
| | 7 , A fej legnagyobb kerületi vonala. |

a – ____, b – ____, c – ____, d – ____, e – ____, f – ____,

....pont / 6 pont

Oldalpontszám:pont / 10 pont

5. Feladat

A fodrász feladatai közé tartozik a vizes- és a száraz hajformázás. A következő feladat ezzel kapcsolatos!

Párosítsa az összetartozó fogalmakat! Írja a megfelelő betűjelet az állítás előtti vonalra!

- A) Vizes hajformázás
- B) Száraz hajformázás
- C) Mindkettő
- D) Egyik sem

_____ Fő hatóanyaga a PPD és PTD.

_____ A haj minősége befolyásolja a hajsütővas hőmérsékletének megválasztását.

_____ A csavaró átmérőjétől is függ a hullám lazasága vagy erőssége.

_____ Csak a hidrogén-hidakat bontjuk és zárjuk.

_____ A munkafolyamat során tartós formaváltoztatás is történik.

_____ A haj formázása történhet lapos csavarással és spirálcsvarrással.

_____ A munkafolyamat során csavarókat és csipeszeket használunk a haj formázásához.

_____ Hatása maximum a következő hajmosásig tart.

....pont / 8 pont

6. Feladat

Fontos, hogy a fodrász ismerje a férfi hajvágással és arcápolással kapcsolatos szakmai kifejezéseket. Ez a feladat ezzel kapcsolatos.

a) Írja röviden a meghatározás mellé a hozzá tartozó fogalmat!

A felsőajak felett növe szőrzetből kialakított viselet: _____

Tarkóban a hajnöve legmélyebb pontja: _____

Átmenet kialakítása olló és fésű segítségével: _____

....pont / 3 pont

Oldalpontszám:pont / 11 pont

b) Sorolja fel a férfi oldalfazon formáit!

- _____
- _____
- _____

....pont / 3 pont

c) Ebben a feladatrészben a férfi klasszikus hajvágásról és annak formázásáról olvashat állításokat. Írja be a hiányzó kifejezéseket értelemszerűen!

A vágás előtt a fejtetőn minimum _____ kell lennie a hajnak a követelmények szerint.

A nullpont feletti részen _____ ujjnyi magasságban kell átmenetet készíteni.

A nullpont kialakítása _____.

A hajvágáshoz nem alkalmazható _____ és _____.

A fül körüli fazon _____ borotválása kötelező.

A nyakfazon kialakítása _____, borotva alkalmazása nem megengedett a nyakszőr eltávolítására

A fejtető haj kiemelési szöge az 'A' választék mentén _____°.

A fejtető hajrész átborotválása a fésüléssel és szárítással _____ irányba történik.

A frizura elkészítéséhez szűkítővel ellátott hajszáritót kell használni, és _____ forma kialakítása kötelező.

....pont / 10 pont

d) Rajzon szemléltesse a választék nélküli férfi klasszikus formát, elől- és oldalnézetből!



rajzonként 1-1- pont /...pont/2 pont

Oldalpontszám:pont / 15 pont

7. Feladat

A női alaphajvágások ismerete elengedhetetlen a fodrászok számára. Ez a feladat ezzel kapcsolatos.

- a) Milyen lehet a frizura külső vonala az I. kompakt/egyhossz hajvágás esetén?

Minden helyes válasz 1 pont, összesen 3 pont

....pont/ 3 pont

- b) Határozza meg és jelölje milyen kiemelési szög lehetséges az I. kompakt/egyhossz formánál?



.....

Helyes rajz és szög meghatározás 1-1 pont, összesen 2 pont.

....pont/ 2 pont

- c) Rajzolja be az ábrákba a II. lépcsőzetes forma a 45°-előre hosszabbodó külső vonalú frizura, 45° kiemelését!










Helyes rajz és szög meghatározás 1-1 pont, összesen 2 pont.

....pont/ 2 pont

Oldalpontszám:pont / 7 pont

d) Válaszoljon a feltett kérdésekre és töltsse ki a táblázatot értelemszerűen!

| | | |
|---|---|---|
| |  |  |
| Nevezze meg az alaphajvágás típusát! | _____ (1 pont) | _____ (1 pont) |
| Ábrázolja a forma kiemelési szögét a rajzon a meghatározás szerint! |  90°-os kiemelési szög (Helyes rajz és szög jelölés 1-1 pont) |  a „B” átló előtt 100° a kiemelési szög, a „B” átlótól a tarkó felé 140° a kiemelési szög (Helyes rajz és szög jelölés 1-1 pont) |
| Milyen leválasztásokkal készíti a hajvágást? | _____ _____ _____ (3 pont) | _____ _____ (2 pont) |

| | | |
|--|---|--|
| <p>Határozza meg az adott forma vezetőpasszé kialakításának lehetséges helyeit! Rajzon ábrázolja azokat!</p> | <div style="text-align: center;">  <p>(Helyes rajz 1 pont)</p> <hr/> <hr/> <p>(1 pont)</p>  <p>(Helyes rajz 1 pont)</p> <hr/> <hr/> <p>(1 pont)</p> </div> | <div style="text-align: center;">  <p>(Helyes rajz 1 pont)</p> <hr/> <hr/> <hr/> <p>(1 pont)</p> </div> |
| <p>Hol a leghosszabb a haj a hajvágás elkészítését követően?</p> | <hr/> <p>(1 pont)</p> | <hr/> <p>(1 pont)</p> |
| <p>Milyen leválasztásokkal ellenőrzi a hajvágást?</p> | <hr/> <p>(1 pont)</p> | <hr/> <p>(1 pont)</p> |
| <p>A hajvágás során képződik-e átmenete?</p> | <hr/> <p>(1 pont)</p> | <hr/> <p>(1 pont)</p> |

Helyes rajz és szög meghatározás 1-1 pont, válaszonként 1-1- pont adható.

...pont / 23 pont

Oldalpontszám (táblázat):pont / 23 pont

8. Feladat

Hajvágás során a frizura kialakításával bizonyos „szépséghibákat” palástolni, illetve korigálni és kiegyenlíteni is tudunk. Döntse el az állításokról, hogy igazak, vagy hamisak. Jelölje **X**-el megállapításait a táblázat megfelelő oszlopában! Értelemszerűen csak az egyik oszlopba írhat! A hamis mondatokat kijavítva írja le!

| Állítások | Igaz | Hamis |
|---|-------------|--------------|
| Szögletes arcú vendégnél a geometrikus formák ajánlottak. | | |
| Magas homlokú vendégnél ajánljunk frufruval készülő frizurát. | | |
| Kerek arcú vendégnek javasoljunk göndör haját és tömött frizurát. | | |

Javítás:

....pont / 5 pont**Oldalpontszám:pont / 5 pont**

9. Feladat

Fontos, hogy a fodrászok eligazodjanak a különböző korok és stílusok között, hiszen mindennapi munkájában visszaköszönnek ezek az ismeretek.

a) Milyen stílusban épültek a következő épületek?

Magyar Nemzeti Múzeum (Budapest) - _____

Egri Minorita templom - _____

Jáki templom - _____

Budapesti Mátyás templom - _____

Firenzei Dóm - _____

....pont / 5 pont

b) Fontos hogy a szakember ismerje, a különböző korok fontosabb hajviseleteit és azokhoz kapcsolódó kiegészítőket. Írja le a következők meghatározásait röviden!

Két részből álló gótikus főkötő: _____

Fiatal lányok félhold alakú fejdísz, gyakran gyöngyökkel díszítették:

Legismertebb görög női kontyos hajviselet, a haját nyakból kiemelve, 3-4 szalagsorral leszorították, melyből az egyik a homlokot takarta le: _____

Barokk női hajviselet, a sűrűn hullámosított leomló haját kétoldalt laposra nyomták:

Homlokhaj megemlése, vázra fésüléssel: _____

Kúp-, vagy csonka kúp alakú gótikus fejdísz fátyollal: _____

Fehér vászon főkötő: _____

Barokk férfi hajviselet, mely az államhatalmat jelképezte, vállig ért és kazalszerűen állt a fejen, egyszerű polgárok viselték: _____

....pont / 8 pont

Oldalpontszám:pont / 13 pont

Elérhető pontszám: 100 pont

Elért pontszám: pont