

Versenyző kódja:

	/14/	
--	------	--

27/2012. (VIII. 27.) NGM rendelet
55 815 01 - 2017

MAGYAR KERESKEDELMI ÉS IPARKAMARA

Szakma Kiváló Tanulója Verseny

Elődöntő

ÍRÁSBELI FELADAT MEGOLDÁSA

Szakképesítés:

55 815 01 Fodrász

SZVK rendelet száma: 27/2012. (VIII. 27.) NGM rendelet

Komplex írásbeli:

Aláhajvágások; Frizurakészítés

Elérhető pontszám: 100 pont

Az írásbeli verseny időtartama: 90 perc

2017.

Javító	
Aláírás	

Elért pontszám	
----------------	--

Fontos tudnivalók

Kedves Versenyző!

Javasoljuk, hogy először olvassa végig a feladatokat, a megoldást az Ön számára egyszerűbb kérdések megválaszolásával kezdje.

A feladatok megoldásánál ügyeljen a következők betartására:


- A feladatok megoldásához az íróeszközön –kék golyóstoll- kívül semmilyen más segédeszközt (pl. tankönyv, stb.) nem használhat!
- Meg nem engedett segédeszköz használata a vizsgából való kizárást vonja maga után!
- Ceruzával írt dolgozat nem fogadható el!
- **Teszt jellegű feladatoknál nem javíthat!**
Több megoldás beírása esetén egyet sem fogadunk el.
- Bizonyos feladatoknál példákat, jellemzőket kérünk Öntől. Ennél a feladat-típusnál különösen figyeljen, hogy hány darabot kér a feladat, ugyanis többletpontszám nem adható, még akkor sem, ha az elvárt darabszámtól többet sorolna fel!

Ügyeljen arra, hogy áttekinthetően és szép külalakkal dolgozzon!

Sikeres megoldást és jó munkát kívánunk!

1. Feladat

a) A következő kérdések a hajszál felépítésével kapcsolatosak, mely a fodrász számára elengedhetetlen. Nevezze meg a hajszál részeit az ábra segítségével! Válaszát a táblázat celláiba írja!



Dr. Szírmák Szilárdné, Dr. Szolnoky Erzsébet: Fodrász szakismeret II. Beato Angelico Kiadó Győr, 2008. 7.22. ábra

...pont / 6 pont

b) Válaszoljon a hajszál részeivel kapcsolatos kérdésekre! Válaszait írja a vonalra!

- Hogyan nevezük azt a réteget, amely a hajszál fő tömegét adja, és szálszerkezetű keratin építi fel?

kortex/rosttörzs/kéregállomány

- Hol található a hajszál festékanyaga?

(kitt anyagba ágyazódva) a kortexben

- Melyik az a réteg, amely üreges szerkezetű, az ősz hajszálnál kiszélesedik?

medulla/velőállomány

- Melyik az a réteg, melyet amorf keratin épít fel?

kutikula/kéreghártya

...pont / 4 pont

Összesen: pont / 10 pont

2. Feladat

Fontos, hogy a diagnosztizálás során felismerje a különböző elváltozásokat. Írja a megfelelő betűjelet a számok mellé! Vigyázat, egy betűhöz nem tartozik szám, ez a kakukktojás!

- | | | |
|-----|------------------------------------|------------------------|
| D__ | 1. hámeredetű nem fertőző daganat | A. közönséges szemölcs |
| C__ | 2. anyajegy | B. mikrospória |
| A__ | 3. vírus okozta megbetegedés | C. lencsefolt |
| F__ | 4. kötőszövet eredetű daganat | D. faggyúciszta |
| E__ | 5. állati élősködő okozta betegség | E. tetvesség |
| | | F. lipóma |

Határozza meg, hogy a kakukktojás milyen fertőző betegségek közé sorolható: **gomba okozta** fertőző megbetegedés.

....pont / 6 pont

3. Feladat

A fodrász szakma alapvető követelménye a személyi és munkahelyi higiénia. Soroljon fel négyet a fertőtlenítőszerrel támasztott alapvető követelmények közül!

- rövid hatóidő,
- fertőtlenítendő felületet ne károsítsa,
- vízben jól oldódjon,
- széles hatásspektrumú legyen,
- gazdaságos legyen/ alacsony koncentrációban is hatásos legyen,
- ne legyen tűzveszélyes, kellemetlen szagú/ mérgező, stb.

....pont / 4 pont

4. Feladat

Fontos, hogy a szakember tisztában legyen munkája során felhasznált anyagok, hatóanyagok sajátosságaival, hatásával, felhasználási területével. Határozza meg mi a közös felhasználási területe, hatása az alábbi anyagoknak? Válaszát írja az üres téglalapba!

	Anyag neve	Felhasználási terület, hatás
a)	A-, D-, F- vitamin	nyugtató, hámképzés/zsírhiányos fejbőr ápolása
b)	timsó, csersav, trombofort	vérzéscsillapítás
c)	csalán, paprika, árnika	vérbőségfokozás
d)	ichtiol, kén, B-vitaminok, H-vitamin	szeborrea ellenes hatású

....pont / 4 pont

5. Feladat

A fodrász szakma alapvető követelménye, hogy ismerje szakmáját érintő alapfogalmakat, eszközöket, szerszámokat. Párosítsa össze a fogalmakat és meghatározásaikat! Vigyázzon, van egy kakukktójás!

a, „B” választék	1, Lehetővé teszi, hogy a haj a ne vastag tincsből álljon össze, a frizura könnyebben formálhatóvá válik, természetes hatást ad a vágás után is.
b, Vezetőtincs	2, A hajvágás során az ollót szembe tartjuk a tincessel, azaz párhuzamos az olló hossz tengelye a tincs hossz tengelyével.
c, Nyakszirt kefe	3, A hajvágás meghatározója, ehhez igazítjuk a többi tincset, ez határozza meg a frizura hosszát.
d, Mélypontvágás	4, Hosszú finom sörtéje van és a nyakba hulló apró szálakat segít eltávolítani.
e, Ritkítás	5, Választék homlokközéptől tarkóközépig, a fej legmagasabb pontján keresztül.
f, Sasson olló	6, Fültől fülig választék a fej legmagasabb pontján keresztül.
	7, Rövid vágólapú, könnyű járású olló.

a 6,b 3,c 4,d 2,e 1,f 7

....pont / 6 pont

6. Feladat

A fodrász feladatai közé tartozik a vizes- és a száraz hajformázás. A következő feladat ezzel kapcsolatos! A következő állítások betűjelét írja a táblázat megfelelő helyére! Vigyázzon, minden betű csak egy helyen szerepelhet, és van olyan betű is, amit sehova nem kell beírni, ez a kakukktojás!

Vizes hajformázás	Száraz hajformázás	Mindkettőre jellemző
B, F, H	A, E, J	C, G, I

- A) A haj minősége befolyásolja a hajsütővas hőmérsékletének megválasztását.
- B) A csavaró átmérőjétől is függ a hullám lazasága vagy erőssége.
- C) Csak a hidrogén-hidakat bontjuk és zárjuk.
- D) A munkafolyamat során tartós formaváltoztatás is történik.
- E) A haj formázása történhet lapos csavarási- és spirálcavarási technikával.
- F) A munkafolyamat során fém- vagy műanyag csavarókat(orsókat) és csipeszeket használunk a haj formázásához.
- G) Hatása maximum a következő hajmosásig tart.
- H) Ide tartozik a főnhullám is.
- I) A frizura tartósabb kialakításához, tupírozási technikát is alkalmazhatunk.
- J) Túl meleg, vagy gyakori hajsütővas használat károsítja, roncsolja a hajsálakat.

....pont / 9 pont

7. Feladat

Fontos, hogy a fodrász ismerje a férfi arcápolással és hajvágással kapcsolatos szakmai kifejezéseket. Ez a feladat ezzel kapcsolatos.

- a) **Két férfi arcápoló termék főbb alkotóelemeit látja felsorolva. Határozza meg melyik készítmény alkotórészei, válaszát írja a vonalra!**

izopropil-alkohol, szalicilsav, glicerin, víz: arcvíz/ arcszesz

elszappanosító (pl. NaOH), habstabilizáló (pl. tragant), sztearinsav, kókuszolaj:
borotvakrém

....pont / 2 pont

- b) **Soroljon fel 3-3 férfi bajusz- és szakállformát!**

Bajuszformák:

- magyar,
- francia,
- légy,
- angol,
- Chaplin, stb.

Szakállformák:

- Kossuth-szakáll,
- Császár-szakáll,
- Kocka-szakáll,
- Körszakáll,
- Kecskeszakáll, stb.

....pont / 6 pont

- c) **Állapítsa meg a következő mondatokról, hogy megfelelnek-e a klasszikus férfi hajvágás formai követelményének! Ha az állítás igaz, jelölje I-vel, ha az állítás hamis, jelölje H-val. A hamis állításokat javítva írja a vonalra!**

Fejtetőn a fejre merőleges tincseket választunk le,- (vezetőpasszé - fejtetőn 90 fokos kiemeléseket végzünk) legyező alakban tompára vágunk. I

Hajhossz a fejtetőn minimum: 6 cm, a tarkó és fül körül minimum: 3 cm. H

Fül körül, és tarkórészen lévő haj vágása tompavágással történik. H

A haj a fülre a fazonvágás után nem lóghat, éles, tiszta fazonvágása kötelező. I

A fejtető- és az oldalhajakat borotvával át kell vékonyítani. I

Hajvágáskor hajvágógép és ritkító olló használata kötelező. H

Ellentétes leválasztásokkal átellenőrizzük a vágást. I

Javítás:

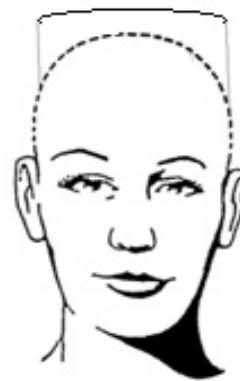
Hajhossz a fejtetőn minimum:7/ 8 cm, a tarkó és fül körül minimum: 1 cm.

Fül körül, és tarkórészen lévő haj vágása stuccolással történik.

Hajvágáskor hajvágógép és ritkító olló nem használható.

....pont / 10 pont

d) Rajzon szemléltesse a választék nélküli férfi klasszikus formát, elől- és oldalnézetből!



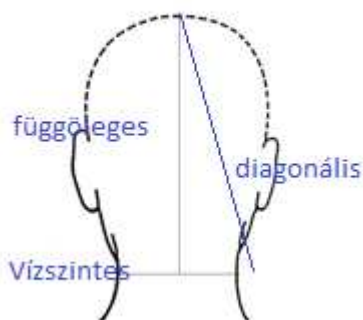
rajzonként 1-1- pont /....pont/2 pont

8. Feladat

A női alaphajvágások ismerete elengedhetetlen a fodrászok számára. Ez a feladat ezzel kapcsolatos.

a) Határozza meg a női alaphajvágások esetében a leválasztási irányokat! A rajzon szemléltesse!

- horizontális - vízszintes
- vertikális - függőleges
- diagonális - átlós irányú

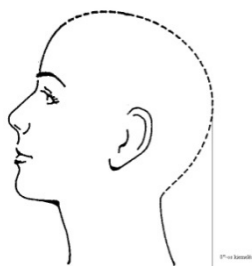


helyes válaszonként és rajzonként

1-1 pont

....pont/ 6 pont

b) Határozza meg és jelölje milyen kiemelési szög lehetséges az I. kompakt/egyhossz formánál?

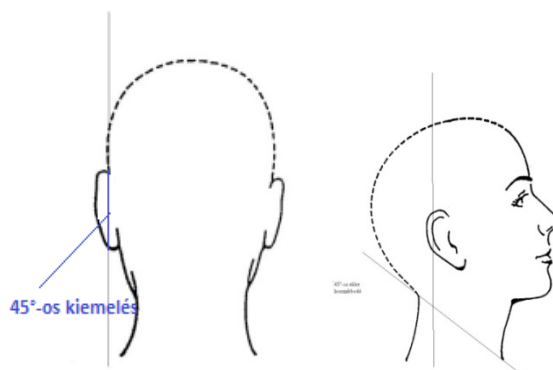


0°

Helyes rajz és szög meghatározás 1-1 pont, összesen 2 pont.

....pont/ 2 pont

- c) Rajzolja be az ábrákba a II. lépcsőzetes forma a 45°-előre hosszabbodó külső vonalú frizura, 45° kiemelését!

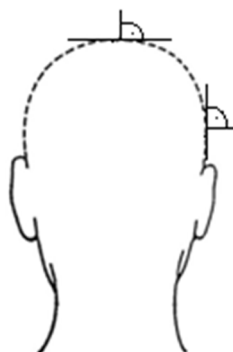


Helyes rajz és szög meghatározás 1-1 pont, összesen 2 pont.

....pont/ 2 pont

- d) Határozza meg a III. Uniform forma kiemelési szögét és a rajzon ábrázolja!

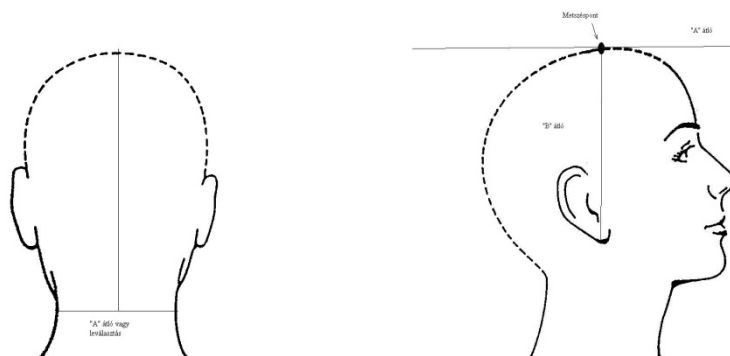
- 90°



....pont/ 2 pont

e) Határozza meg a III. Uniform forma vezetőpasszé lehetséges helyeit. Rajzon ábrázolja!

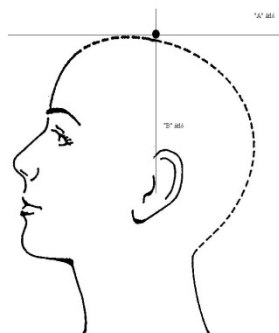
- A fejtetőn az „A” és „B” átló metszéspontja 1 pont
- „A” átló tarkó hajnövés 1 pont



....pont/ 4 pont

f) Határozza meg a IV. lefelé hosszabbodó forma vezetőpasszé helyét. A rajzon ábrázolja!

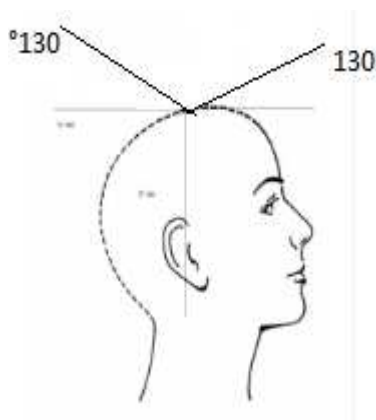
- A fej legmagasabb pontján az „A” és „B” átló metszéspontja 1 pont
- Rajz 1 pont



....pont/ 2 pont

g) Ábrázolja a IV. lefelé hosszabbodó formát, ha a „B” átló előtt 130° a kiemelési szög, a „B” átlótól a tarkó felé 130° a kiemelési szög.

- 130° . 1 pont
- 130° . 1 pont



....pont/ 2 pont

h) Írja a helyes válasz betűjelét az állítás elé, amelyre igaz!

- A) Egyhossz kompakt
- B) Uniform
- C) Lépcsőzetes
- D) Lefelé hosszabbodó
- E) Mindegyikre igaz
- F) Egyikre sem igaz

- A** A haj külső vonala lehet vízszintes, előrefelé hosszabbodó, hátrafelé hosszabbodó.
- F** A hajvágás után a haj lehet aszimmetrikus.
- E** A hajvágást tompára vágással készítjük.
- D** A haját $90-180$ fokos kiemeléssel vágjuk.
- C** A haját $0-90$ fokos kiemeléssel vágjuk, az átmenetképzés folyamatos.
- E** Ellentétes irányú leválasztásokkal ellenőrizzük a hajvágást.
- A** A hajvágás során átmenet nem alakul ki.
- F** A hajvágás után a haját szárazon puhítjuk, ritkítjük.
- B** A hajvágás után a haj mindenhol egyforma hosszúságú.

....pont / 9 pont

9. Feladat

Fontos, hogy a fodrászok eligazodjanak a különböző korok és stílusok között, valamint ismerje a különböző korok hajviseleteit, fejfedőit, hiszen mindennapi munkájában visszaköszönnek ezek az ismeretek.

a) Milyen stílusban épültek a következő épületek?



Esterházy- kastély (Fertőd) - **Barokk**

Bakócz- kápolna (Esztergom)- **Reneszánsz**

Vajdahugyad vára (Budapest)- **Gótikus**

...pont / 3 pont

b) Alkosson a következő összefüggő, összeillő meghatározásokból szám-nagybetű-kisbetű hármast (Pl.: 1-A-a)!

<p>1.</p> 	<p>A) Kúp-, vagy csonka kúp alakú fejdísz fátyollal.</p>	<p>d) Gótikus női viselet.</p>
<p>2.</p> 	<p>B) A kor fantasztikus hajviselete, a hasonló nevű csatahajóról kapta a nevét.</p>	<p>e) A XV. és a XVI. századi, reneszánsz viselet</p>
<p>3.</p> 	<p>C) Kerek vagy szögletes formájú puha fejfedő, gyakran tollal is díszítették.</p>	<p>f) Késői rokokó hajviselet, inkább fejdísz mint frizura, Belle-Poule néven ismerjük.</p>

1-**B-f**

2-**C-e**

3-**A-d**

...pont / 6 pont

Versenyző kódja:

/ **14** /

27/2012. (VIII. 27.) NGM rendelet

Komplex írásbeli

Fodrász

c) Párosítsa az összetartozó fogalmakat! Vigyázzon, nem minden fogalomnak van párja!

- | | |
|-------------|--|
| 1, timpanon | A, oszlopokon vagy pillérekben nyugvó boltív, vagy boltívek sora |
| 2, árkád | B, kőből kifaragott összefüggő domborműves képszalag |
| 3, fríz | C, oszlop helyett tartóelemként alkalmazott szobor |
| | D, épület homlokzatán található háromszög alakú mező |

1-**D**, 2-**A**, 3-**B**,

....pont / 3 pont

Elérhető pontszám: 100 pont